

Единый государственный экзамен по ИНФОРМАТИКЕ и ИКТ

Инструкция по выполнению работы

Экзаменационная работа состоит из 27 заданий с кратким ответом, выполняемых с помощью компьютера.

На выполнение экзаменационной работы по информатике и ИКТ отводится 3 часа 55 минут (235 минут).

Экзаменационная работа выполняется с помощью специализированного программного обеспечения, предназначенного для проведения экзамена в компьютерной форме. При выполнении заданий Вам будут доступны на протяжении всего экзамена текстовый редактор, редактор электронных таблиц, системы программирования. Расположение указанного программного обеспечения на компьютере и каталог для создания электронных файлов при выполнении заданий Вам укажет организатор в аудитории.

На протяжении сдачи экзамена доступ к сети Интернет запрещён.

При выполнении заданий можно пользоваться черновиком. **Записи в черновике не учитываются при оценивании работы.**

Баллы, полученные Вами за выполненные задания, суммируются. Постарайтесь выполнить как можно больше заданий и набрать наибольшее количество баллов

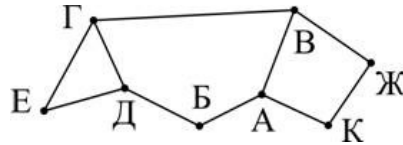
Желаем успеха!

В экзаменационных заданиях используются следующие соглашения.

1. Обозначения для логических связок (операций):
 - a) отрицание (инверсия, логическое НЕ) обозначается \neg (например, $\neg A$);
 - b) конъюнкция (логическое умножение, логическое И) обозначается \wedge (например, $A \wedge B$) либо $\&$ (например, $A \& B$);
 - c) дизъюнкция (логическое сложение, логическое ИЛИ) обозначается \vee (например, $A \vee B$) либо $|$ (например, $A | B$);
 - d) следование (импликация) обозначается \rightarrow (например, $A \rightarrow B$);
 - e) тождество обозначается \equiv (например, $A \equiv B$). Выражение $A \equiv B$ истинно тогда и только тогда, когда значения A и B совпадают (либо они оба истинны, либо они оба ложны);
 - f) символ 1 используется для обозначения истины (истинного высказывания); символ 0 – для обозначения лжи (ложного высказывания).
2. Два логических выражения, содержащих переменные, называются равносильными (эквивалентными), если значения этих выражений совпадают при любых значениях переменных. Так, выражения $A \rightarrow B$ и $(\neg A) \vee B$ равносильны, а $A \vee B$ и $A \wedge B$ неравносильны (значения выражений разные, например, при $A = 1, B = 0$).
3. Приоритеты логических операций: инверсия (отрицание), конъюнкция (логическое умножение), дизъюнкция (логическое сложение), импликация (следование), тождество. Таким образом, $\neg A \wedge B \vee C \wedge D$ означает то же, что и $((\neg A) \wedge B) \vee (C \wedge D)$.
Возможна запись $A \wedge B \wedge C$ вместо $(A \wedge B) \wedge C$. То же относится и к дизъюнкции: возможна запись $A \vee B \vee C$ вместо $(A \vee B) \vee C$.
4. Обозначения Мбайт и Кбайт используются в традиционном для информатики смысле – как обозначения единиц измерения, чьё соотношение с единицей «байт» выражается степенью двойки.

1 В таблице содержатся сведения о дорогах между населёнными пунктами (звёздочка означает, что дорога между соответствующими городами есть). На рисунке справа та же схема дорог изображена в виде графа.

	П1	П2	П3	П4	П5	П6	П7	П8
П1					*			*
П2			*		*		*	
П3		*			*			
П4						*	*	
П5	*	*	*					
П6				*				*
П7		*		*				*
П8	*					*	*	



Так как таблицу и схему рисовали независимо друг от друга, то нумерация населённых пунктов в таблице никак не связана с буквенными обозначениями на графе. Определите номера населённых пунктов Б и В в таблице. В ответе напишите два числа без разделителей: сначала для пункта Б, затем для пункта В.

Ответ: _____.

2 Миша заполнял таблицу истинности функции $\neg(y \rightarrow (x \equiv w)) \wedge (z \rightarrow x)$, но успел заполнить лишь фрагмент из трёх различных её строк, даже не указав, какому столбцу таблицы соответствует каждая из переменных w, x, y, z.

?	?	?	?	F
	1	1		1
0			0	1
	0	1	0	1

Определите, какому столбцу таблицы истинности функции F соответствует каждая из переменных x, y, z, w.

В ответе напишите буквы w, x, y, z в том порядке, в котором идут соответствующие им столбцы (сначала буква, соответствующая первому столбцу; затем буква, соответствующая второму столбцу, и т.д.). Буквы в ответе пишите подряд, никаких разделителей между буквами ставить не нужно.

Пример. Функция задана выражением $\neg x \vee y$, зависящим от двух переменных, а фрагмент таблицы имеет следующий вид.

		$\neg x \vee y$
0	1	0

В этом случае первому столбцу соответствует переменная y, а второму столбцу – переменная x. В ответе следует написать: yx.

Ответ: _____.

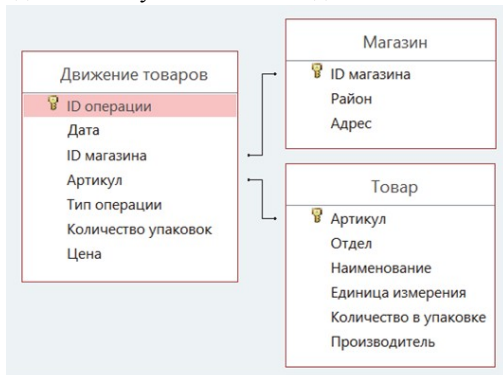


Задание выполняется с использованием прилагаемых файлов.

3 В файле приведён фрагмент базы данных «Продукты» о поставках товаров в магазины районов города. База данных состоит из трёх таблиц.

Таблица «Движение товаров» содержит записи о поставках товаров в магазины в течение первой декады июня 2021 г., а также информацию о проданных товарах. Поле Тип операции содержит значение Поступление или Продажа, а в соответствующее поле Количество упаковок внесена информация о том, сколько упаковок товара поступило в магазин или было продано в течение дня. Таблица «Товар» содержит информацию об основных характеристиках каждого товара. Таблица «Магазин» содержит информацию о местонахождении магазинов.

На рисунке приведена схема указанной базы данных.



Используя информацию из приведённой базы данных, определите общий вес (в кг) паштета (фермерского с грибами и из куриной печени), поступившего в магазины Октябрьского района за период с 1 по 8 июня включительно.

В ответе запишите только число.

Ответ: _____.

4 По каналу связи передаются сообщения, содержащие только буквы из набора: А, З, К, Н, Т. Для передачи используется двоичный код, удовлетворяющий условию Фано. Это условие обеспечивает возможность однозначной расшифровки закодированных сообщений. Кодовые слова для некоторых букв известны: К – 1, Н – 001. Для трёх оставшихся букв А, З и Т кодовые слова неизвестны. Какое количество двоичных знаков потребуется для кодирования слова КАНТАТА, если известно, что оно закодировано минимально возможным количеством двоичных знаков?

Ответ: _____.

5

На вход алгоритма подаётся натуральное число N. Алгоритм строит по нему новое число R следующим образом.

1. Строится двоичная запись числа N.
2. К этой записи дописываются справа ещё несколько разрядов по следующему правилу:
 - а) если N чётное, то к нему справа приписываются два нуля, а слева единица;
 - б) если N нечётное, то к нему справа приписывается в двоичном виде сумма цифр его двоичной записи;

Полученная таким образом запись (в ней как минимум на один разряд больше, чем в записи исходного числа N) является двоичной записью искомого числа R. Например, исходное число $4_{10} = 100_2$ преобразуется в число $110000_2 = 48_{10}$, а исходное число $13_{10} = 1101_2$ преобразуется в число $110111_2 = 55_{10}$.

Укажите такое число N, для которого число R является наименьшим среди чисел, превышающих 190. В ответе это число запишите в десятичной системе счисления.

Ответ: _____.

6

Исполнитель Черепаха действует на плоскости с декартовой системой координат. В начальный момент Черепаха находится в начале координат, её голова направлена вдоль положительного направления оси ординат, хвост опущен. При опущенном хвосте Черепаха оставляет на поле след в виде линии. В каждый конкретный момент известно положение исполнителя и направление его движения. У исполнителя существует 6 команд: **Поднять хвост**, означающая переход к перемещению без рисования; **Опустить хвост**, означающая переход в режим рисования; **Вперёд n** (где n – целое число), вызывающая передвижение Черепахи на n единиц в том направлении, куда указывает её голова; **Назад n** (где n – целое число), вызывающая передвижение в противоположном голове направлению; **Направо m** (где m – целое число), вызывающая изменение направления движения на m градусов по часовой стрелке, **Налево m** (где m – целое число), вызывающая изменение направления движения на m градусов против часовой стрелки. Запись **Повтори k [Команда1 Команда2 ... КомандаS]** означает, что последовательность из S команд повторится k раз.

Черепахе был дан для исполнения следующий алгоритм:

Повтори 2 [Вперёд 10 Направо 90 Вперёд 18 Направо 90]

Поднять хвост

Назад 6 Направо 90 Вперёд 9 Налево 90

Опустить хвост

Повтори 2 [Вперёд 17 Направо 90 Вперёд 5 Направо 90]

Определите, сколько точек с целочисленными координатами будут находиться внутри пересечения фигур, ограниченных заданными алгоритмом линиями, включая точки на линиях.

Ответ: _____.

7

Для хранения сжатого произвольного растрового изображения размером 192 на 960 пикселей отведено 90 Кбайт памяти без учёта размера заголовка файла. При сжатии объём файла уменьшается на 35%. Для кодирования цвета каждого пикселя используется одинаковое количество бит, коды пикселей записываются в файл один за другим без промежутков. Какое максимальное количество цветов можно использовать в изображении?

Ответ: _____.

8

Все пятибуквенные слова, в составе которых могут быть только русские буквы Ц, А, П, Л, Я, записаны в алфавитном порядке и пронумерованы начиная с 1.

Ниже приведено начало списка.

1. ААААА
2. ААААЛ
3. ААААП
4. ААААЦ
5. ААААЯ
6. АААЛА

...

Под каким номером в списке идёт первое слово, которое содержит не более одной буквы А, ровно две буквы Ц, не содержит ни одной буквы Л?

Ответ: _____.



Задание выполняется с использованием прилагаемых файлов.

9

Откройте файл электронной таблицы, содержащей в каждой строке четыре натуральных числа. Определите количество строк таблицы, содержащих числа, для которых выполнены оба условия:

- наибольшее из четырёх чисел меньше суммы трёх других;
- четыре числа можно разбить на две пары чисел с равными суммами.

В ответе запишите только число.

Ответ: _____.



Задание выполняется с использованием прилагаемых файлов.

10

Текст романа М.А. Булгакова «Собачье сердце» представлен в виде файлов различных форматов. Откройте один из файлов и определите, сколько раз встречаются в тексте слова с сочетанием букв «куда», например «откуда», «кудахтать». Отдельные слова «куда» и «Куда» учитывать не следует.

В ответе запишите только число.

Ответ: _____.

- 11** При регистрации в компьютерной системе каждому пользователю выдаётся пароль, состоящий из 25 символов и содержащий только символы из 7-символьного набора: С, Д, А, М, Е, Г, Э. В базе данных для хранения сведений о каждом пользователе отведено одинаковое и минимально возможное целое число байт. При этом используют посимвольное кодирование паролей, все символы кодируют одинаковым и минимально возможным количеством бит. Кроме собственно пароля, для каждого пользователя в системе хранятся дополнительные сведения, для чего выделено целое число байт; это число одно и то же для всех пользователей.
- Для хранения сведений о 200 пользователях потребовалось 4800 байт. Сколько байт выделено для хранения дополнительных сведений об одном пользователе? В ответе запишите только целое число – количество байт.

Ответ: _____.

- 12** Исполнитель Редактор получает на вход строку символов и преобразовывает её. Редактор может выполнять две команды, в обеих командах *v* и *w* обозначают цепочки символов.
- А) **заменить** (*v*, *w*).
- Эта команда заменяет в строке первое слева вхождение цепочки *v* на цепочку *w*. Например, выполнение команды **заменить** (111, 27) преобразует строку 05111150 в строку 0527150.
- Если в строке нет вхождений цепочки *v*, то выполнение команды **заменить** (*v*, *w*) не меняет эту строку.
- Б) **нашлось** (*v*).
- Эта команда проверяет, встречается ли цепочка *v* в строке исполнителя Редактор. Если она встречается, то команда возвращает логическое значение «истина», в противном случае возвращает значение «ложь». Строка исполнителя при этом не изменяется.

Цикл

ПОКА условие
 последовательность команд
КОНЕЦ ПОКА

выполняется, пока условие истинно.

В конструкции

ЕСЛИ условие
 ТО команда1
КОНЕЦ ЕСЛИ

выполняется команда1 (если условие истинно).

В конструкции

ЕСЛИ условие
 ТО команда1
 ИНАЧЕ команда2
КОНЕЦ ЕСЛИ

выполняется команда1 (если условие истинно) или команда2 (если условие ложно).

На вход приведённой ниже программы поступает строка из 180 цифр, содержащая по 60 цифр 4, 6 и 8, расположенных в произвольном порядке.

Определите, какие цифры будут находиться на 25-м, 75-м и 150-м местах строки, получившейся в результате выполнения программы. Цифры в строке нумеруются последовательно слева направо, самая левая имеет номер 1, следующая – номер 2 и т.д.

В ответе запишите три полученные цифры подряд без пробелов и разделителей в порядке возрастания номеров их мест в получившейся строке. Так, например, если бы на 25-м месте стояла цифра 1, на 75-м – 2, а на 150-м – 3, то был бы ответ 123.

НАЧАЛО

ПОКА **нашлось** (46) ИЛИ **нашлось** (84) ИЛИ **нашлось** (86)

 ЕСЛИ **нашлось** (46)
 ТО **заменить** (46, 64)

 КОНЕЦ ЕСЛИ
 ЕСЛИ **нашлось** (84)
 ТО **заменить** (84, 48)

 КОНЕЦ ЕСЛИ
 ЕСЛИ **нашлось** (86)
 ТО **заменить** (86, 68)

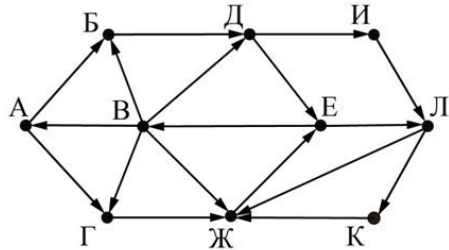
 КОНЕЦ ЕСЛИ

КОНЕЦ ПОКА

КОНЕЦ

Ответ: _____.

- 13** На рисунке представлена схема дорог, связывающих города А, Б, В, Г, Д, Е, Ж, И, К, Л. По каждой дороге можно двигаться только в одном направлении, указанном стрелкой. Определите количество различных путей ненулевой длины, которые начинаются и заканчиваются в городе Е, не содержат этот город в качестве промежуточного пункта и проходят через промежуточные города не более одного раза.



Ответ: _____.

- 14** Значение арифметического выражения $343^{515} - 6 \cdot 49^{520} + 5 \cdot 49^{510} - 3 \cdot 7^{530} - 550$ записали в системе счисления с основанием 7. Определите количество цифр 6 в записи этого числа.

Ответ: _____.

- 15** Обозначим через ДЕЛ(n, m) утверждение «натуральное число n делится без остатка на натуральное число m ». Для какого наименьшего натурального числа A формула $(\text{ДЕЛ}(x, 2) \rightarrow \neg \text{ДЕЛ}(x, 3)) \vee (x + A \geq 100)$ тождественно истинна (т.е. принимает значение 1) при любом натуральном значении переменной x ?

Ответ: _____.

- 16** Алгоритм вычисления значения функции $F(n)$, где n – натуральное число, задан следующими соотношениями:
 $F(n) = 1$ при $n < 3$;
 $F(n) = F(n - 1) + n - 1$, если $n > 2$ и при этом n чётно;
 $F(n) = F(n - 2) + 2 \times n - 2$, если $n > 2$ и при этом n нечётно.
 Чему равно значение функции $F(33)$?

Ответ: _____.



Задание выполняется с использованием прилагаемых файлов.

- 17** В файле содержится последовательность натуральных чисел. Элементы последовательности могут принимать целые значения от 1 до 100 000 включительно. Определите количество пар последовательности, в которых остаток от деления хотя бы одного из элементов на 117 равен минимальному элементу последовательности. В ответе запишите количество найденных пар, затем максимальную из сумм элементов таких пар. В данной задаче под парой подразумевается два идущих подряд элемента последовательности.

Ответ:



Задание выполняется с использованием прилагаемых файлов.

- 18** Квадрат разбит на $N \times N$ клеток ($1 < N < 30$). Исполнитель Робот может перемещаться по клеткам, выполняя за одно перемещение одну из двух команд: **вправо** или **вниз**. По команде **вправо** Робот перемещается в соседнюю правую клетку, по команде **вниз** – в соседнюю нижнюю. Квадрат ограничен внешними стенами. Между соседними клетками квадрата также могут быть внутренние стены. Сквозь стену Робот пройти не может. Перед каждым запуском Робота в каждой клетке квадрата лежит монета достоинством от 1 до 100. Посетив клетку, Робот забирает монету с собой; это также относится к начальной и конечной клеткам маршрута Робота. Определите максимальную и минимальную денежные суммы, которые может собрать Робот, пройдя из левой верхней клетки в правую нижнюю. В ответе укажите два числа – сначала максимальную сумму, затем минимальную. Исходные данные представляют собой электронную таблицу размером $N \times N$, каждая ячейка которой соответствует клетке квадрата. Внутренние и внешние стены обозначены утолщёнными линиями.

Пример входных данных

1	8	8	4
10	1	1	3
1	3	12	2
2	3	5	6

Ответ:

19 Два игрока, Петя и Ваня, играют в следующую игру. Перед игроками лежат две кучи камней. Игроки ходят по очереди, первый ход делает Петя. За один ход игрок может добавить в одну из куч (по своему выбору) один камень или увеличить количество камней в куче в два раза. Для того чтобы делать ходы, у каждого игрока есть неограниченное количество камней.

Игра завершается в тот момент, когда суммарное количество камней в кучах становится не менее 255. Победителем считается игрок, сделавший последний ход, т.е. первым получивший такую позицию, при которой в кучах будет 255 или больше камней.

В начальный момент в первой куче было 17 камней, во второй куче – S камней; $1 \leq S \leq 237$.

Будем говорить, что игрок имеет выигрышную стратегию, если он может выиграть при любых ходах противника.

Известно, что Ваня выиграл своим первым ходом после неудачного первого хода Пети. Укажите минимальное значение S , когда такая ситуация возможна.

Ответ: _____.

20 Для игры, описанной в предыдущем задании, найдите два наименьших значения S , при которых у Пети есть выигрышная стратегия, причём одновременно выполняются два условия:

- Петя не может выиграть за один ход;
- Петя может выиграть своим вторым ходом независимо от того, как будет ходить Ваня.

Найденные значения запишите в ответе в порядке возрастания.

Ответ:

21 Для игры, описанной в задании 19, найдите минимальное значение S , при котором одновременно выполняются два условия:

- у Вани есть выигрышная стратегия, позволяющая ему выиграть первым или вторым ходом при любой игре Пети;
- у Вани нет стратегии, которая позволит ему гарантированно выиграть первым ходом.

Ответ: _____.



Задание выполняется с использованием прилагаемых файлов.

22

В файле содержится информация о совокупности N вычислительных процессов, которые могут выполняться параллельно или последовательно.

Будем говорить, что процесс B зависит от процесса A , если для выполнения процесса B необходимы результаты выполнения процесса A . В этом случае процессы могут выполняться только последовательно.

Информация о процессах представлена в файле в виде таблицы. В первом столбце таблицы указан идентификатор процесса (ID), во втором столбце таблицы – время его выполнения в миллисекундах, в третьем столбце перечислены с разделителем «;» ID процессов, от которых зависит данный процесс. Если процесс является независимым, то в таблице указано значение 0.

Типовой пример организации данных в файле:

ID процесса B	Время выполнения процесса B (мс)	ID процесса(ов) A
1	1	0
2	3	0
3	2	1; 2
4	7	3

Определите **минимальное** время, через которое завершится выполнение всей совокупности процессов, при условии, что все независимые друг от друга процессы могут выполняться параллельно.

Типовой пример имеет иллюстративный характер. Для выполнения задания используйте данные из прилагаемого файла.

Ответ: _____.

23

Исполнитель преобразует число на экране.

У исполнителя есть две команды, которым присвоены номера:

1. Вычти 1

2. Найди целую часть от деления на 2

Первая из них уменьшает число на экране на 1, вторая заменяет число на экране на целую часть от деления числа на 2.

Программа для исполнителя – это последовательность команд.

Сколько существует программ, для которых при исходном числе 30 результатом является число 1, и при этом траектория вычислений содержит число 9?

Траектория вычислений программы – это последовательность результатов выполнения всех команд программы. Например, для программы 122 при исходном числе 10 траектория состоит из чисел 9, 4, 2.

Ответ: _____.



Задание выполняется с использованием прилагаемых файлов.

24

Текстовый файл состоит из символов А, В и С. Определите максимальное количество идущих подряд пар символов АВ или СВ в прилагаемом файле. Искомая подпоследовательность должна состоять только из пар АВ, или только из пар СВ, или только из пар АВ и СВ в произвольном порядке следования этих пар.

Для выполнения этого задания следует написать программу.

Ответ: _____.

25

Назовём маской числа последовательность цифр, в которой также могут встречаться следующие символы:
 – символ «?» означает ровно одну произвольную цифру;
 – символ «*» означает любую последовательность цифр произвольной длины; в том числе «*» может задавать и пустую последовательность.
 Например, маске 123*4?5 соответствуют числа 123405 и 12300405.
 Среди натуральных чисел, не превышающих 10^9 , найдите все числа, соответствующие маске 12345?7?8, делящиеся на число 23 без остатка.
 В ответе запишите в первом столбце таблицы все найденные числа в порядке возрастания, а во втором столбце – соответствующие им результаты деления этих чисел на 23.

Количество строк в таблице для ответа избыточно.

Ответ:



Задание выполняется с использованием прилагаемых файлов.

26

В лесничестве саженцы сосны высадили параллельными рядами, которые пронумерованы идущими подряд натуральными числами. Растения в каждом ряду пронумерованы натуральными числами начиная с единицы. По данным аэрофотосъёмки известно, в каких рядах и на каких местах растения не прижились. Найдите ряд с наибольшим номером, в котором есть ровно 13 идущих подряд свободных мест для посадки новых сосен, таких, что непосредственно слева и справа от них в том же ряду растут сосны. Гарантируется, что есть хотя бы один ряд, удовлетворяющий этому условию. В ответе запишите два целых числа: наибольший номер ряда и наименьший номер места для посадки из числа найденных в этом ряду подходящих последовательностей из 13 свободных мест.

Входные данные

В первой строке входного файла находится число N – количество прижившихся саженцев сосны (натуральное число, не превышающее 20 000). Каждая из следующих N строк содержит два натуральных числа, не превышающих 100 000: номер ряда и номер места в этом ряду, на котором растёт дерево.

Выходные данные

Два целых неотрицательных числа: наибольший номер ряда и наименьший номер места в выбранной последовательности из 13 мест, подходящих для посадки новых сосен.

Типовой пример организации входных данных

7
 40 3
 40 7
 60 33
 50 125
 50 129
 50 68
 50 72

Для приведённого примера, при условии, что необходимо 3 свободных места, ответом является пара чисел: 50; 69.

Типовой пример имеет иллюстративный характер. Для выполнения задания используйте данные из прилагаемых файлов.

Ответ:



Задание выполняется с использованием прилагаемых файлов.

27

У медицинской компании есть N пунктов приёма биоматериалов на анализ. Все пункты расположены вдоль автомагистрали и имеют номера, соответствующие расстоянию от нулевой отметки до конкретного пункта. Известно количество пробирок, которое ежедневно принимают в каждом из пунктов.

Компания планирует открыть лабораторию в одном из имеющихся пунктов. Перевозить биоматериалы разрешается на расстояние не более M . Пробирки перевозят в специальных транспортировочных контейнерах вместимостью не более 30 штук. Каждый транспортировочный контейнер используется для доставки пробирок только из одного пункта приёма, при этом из каждого пункта приёма может быть доставлено не более одного контейнера с неполной загрузкой. Пункт для лаборатории выбрали таким образом, чтобы количество доставляемых туда контейнеров с пробирками было максимальным. Определите необходимое количество контейнеров для доставки пробирок в эту лабораторию.

Входные данные

Даны два входных файла (файл А и файл В), каждый из которых в первой строке содержит два числа N и M ($1 \leq N \leq 10\,000\,000$, $1 \leq M \leq 10\,000\,000$) – количество пунктов приёма биоматериалов и максимальное расстояние, на которое разрешено перевозить биоматериалы. В каждой из следующих N строк находятся два числа: номер пункта и количество пробирок, принимаемых на этом пункте за сутки (все числа натуральные, количество пробирок в каждом пункте не превышает 1000). Пункты перечислены в порядке их расположения вдоль автомагистрали, считая от нулевой отметки.

В ответе укажите два числа: сначала значение искомой величины для файла А, затем – для файла В.

Типовой пример организации данных во входном файле

6 3
1 100
3 200
6 4
7 3
8 2
10 195

При таких исходных данных и вместимости транспортировочного контейнера, составляющей 96 пробирок, компании выгодно открыть лабораторию в пункте 3. В этом случае количество контейнеров в ней составит: $2 + 3 + 1$.

Типовой пример имеет иллюстративный характер. Для выполнения задания используйте данные из прилагаемых файлов.

Предупреждение: для обработки файла В **не следует** использовать переборный алгоритм, вычисляющий сумму для всех возможных вариантов, поскольку написанная по такому алгоритму программа будет выполняться слишком долго.

Дайте ответ для файла А и для файла В.

Ответ: